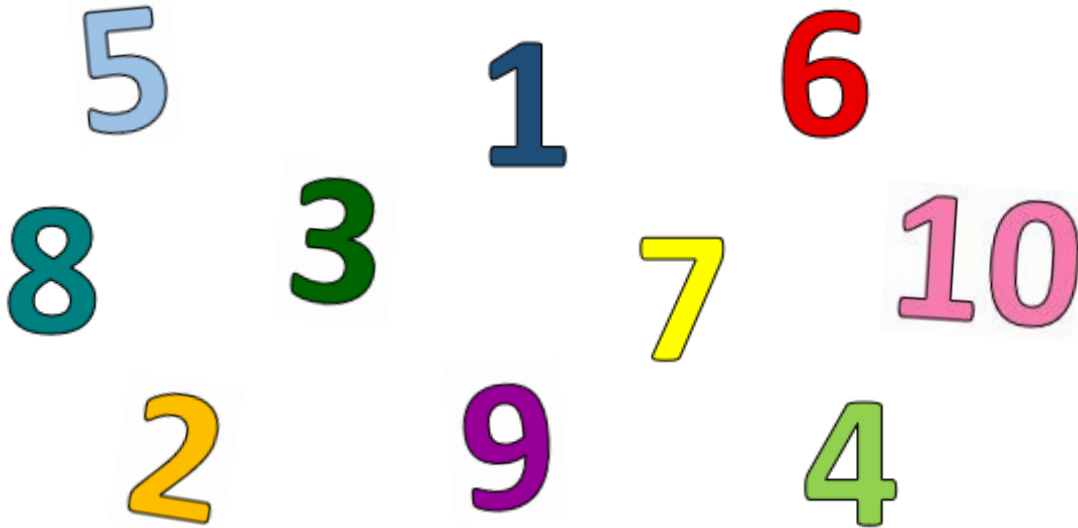


Name: _____

Klasse: _____

1 34 **1** Hör zu und kreise ein.



2 Wie viele Zähne hat Dino? Zähl und verbinde.



3

6


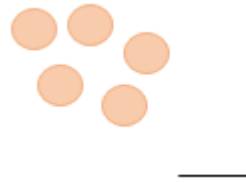
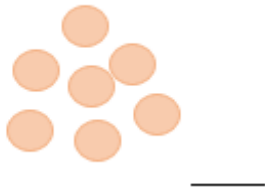

4



3

Wie viele Punkte siehst du? Zähl und schreib.

14



Gesamtpunktzahl:

26

