



Städte-Suchspiel: Wie heisst die Stadt ...?

Hinweise für die Kursleiterin / den Kursleiter

Vorbereitung:

Kopieren Sie die Vorlagen A und B. Bilden Sie Paare und geben Sie den Kursteilnehmern/ Kursteilnehmerinnen* die Vorlagen. Ein TN bekommt Vorlage A, der andere Vorlage B.

Führen Sie die für das Suchspiel relevanten Fragen ein und erklären Sie den unbekanntem Wortschatz.

Ablauf:

Die Partner fragen sich gegenseitig nach den fehlenden Orten auf ihrer Landkarte und tragen die Orte auf dem Blatt ein.

Lernziel:

Die TN verschaffen sich spielerisch einen Überblick über die geografische Lage wichtiger Schweizer Städte (Seen, Flüsse und Berge**). Sie wiederholen ausserdem die Buchstaben und Zahlen, die in Lektion 1 und 2 eingeführt worden sind.

* Kursteilnehmer/-in: TN

** neuer Wortschatz

Städte-Suchspiel: Wie heisst die Stadt ...?

Vorlage A




die Stadt



der See

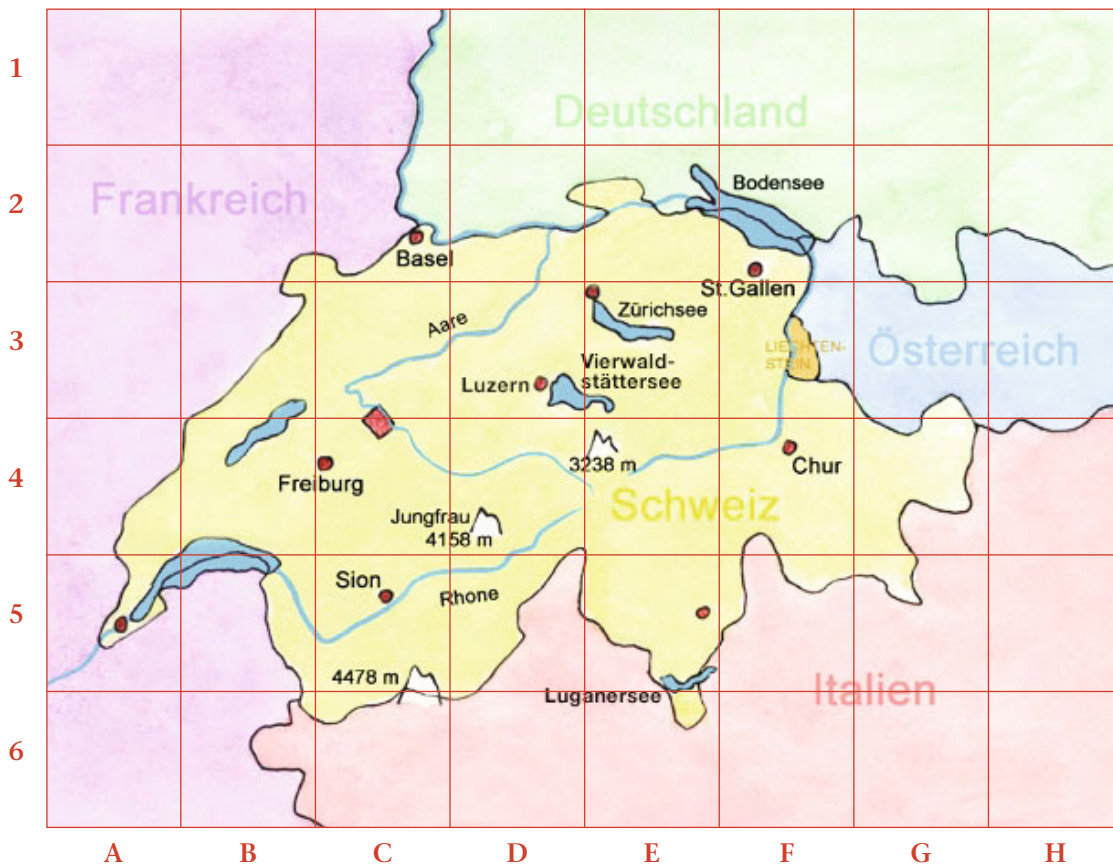


der Fluss



der Berg

- Wie heisst die Stadt in A5, C3/4, E3 und E5?
- Wie heisst der Fluss in C/D2?
- Wie heisst der See in A/B4/5 und B3/4?
- Wie heisst der Berg in C6 und E4?



nach einer Idee von Anja Schumann

Städte-Suchspiel: Wie heisst die Stadt ...?

Vorlage B




die Stadt



der See

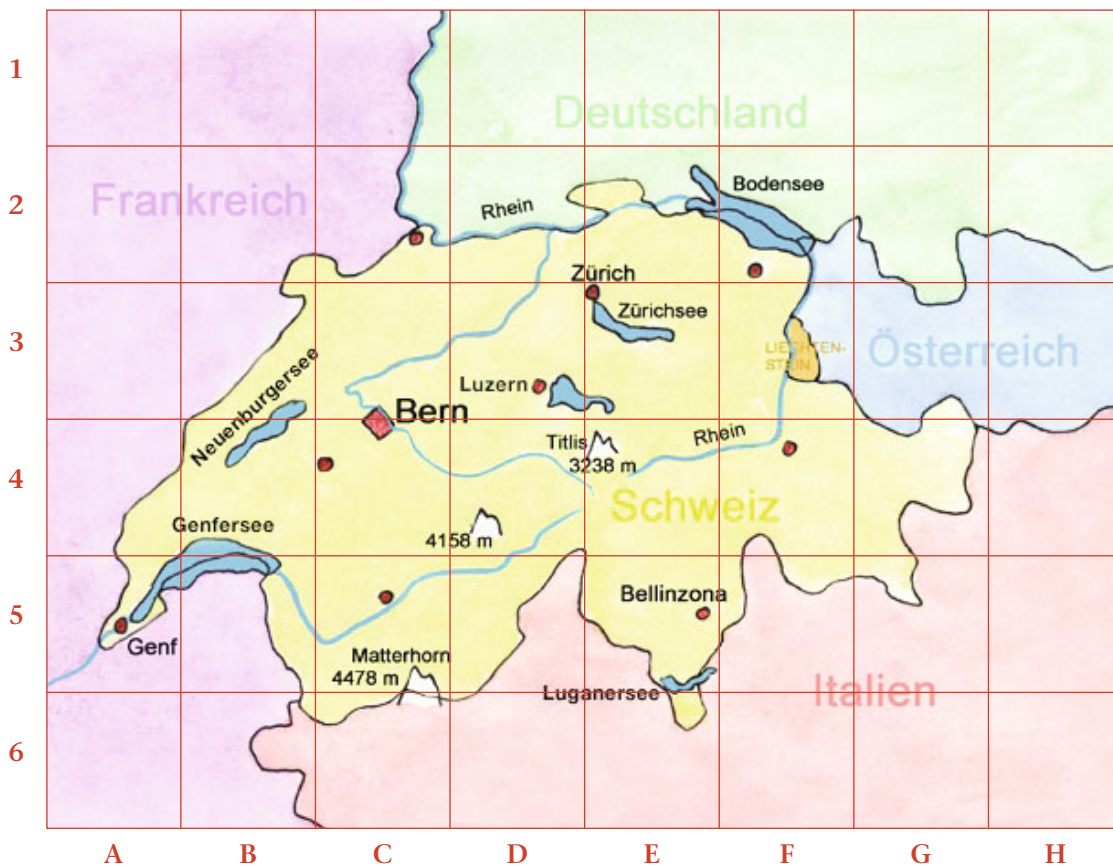


der Fluss



der Berg

- Wie heisst die Stadt in C2, C4, C5, F2 und F4?
- Wie heisst der Fluss in B/C/D5 und C/D3?
- Wie heisst der See in D/E3?
- Wie heisst der Berg in D4?



nach einer Idee von Anja Schumann